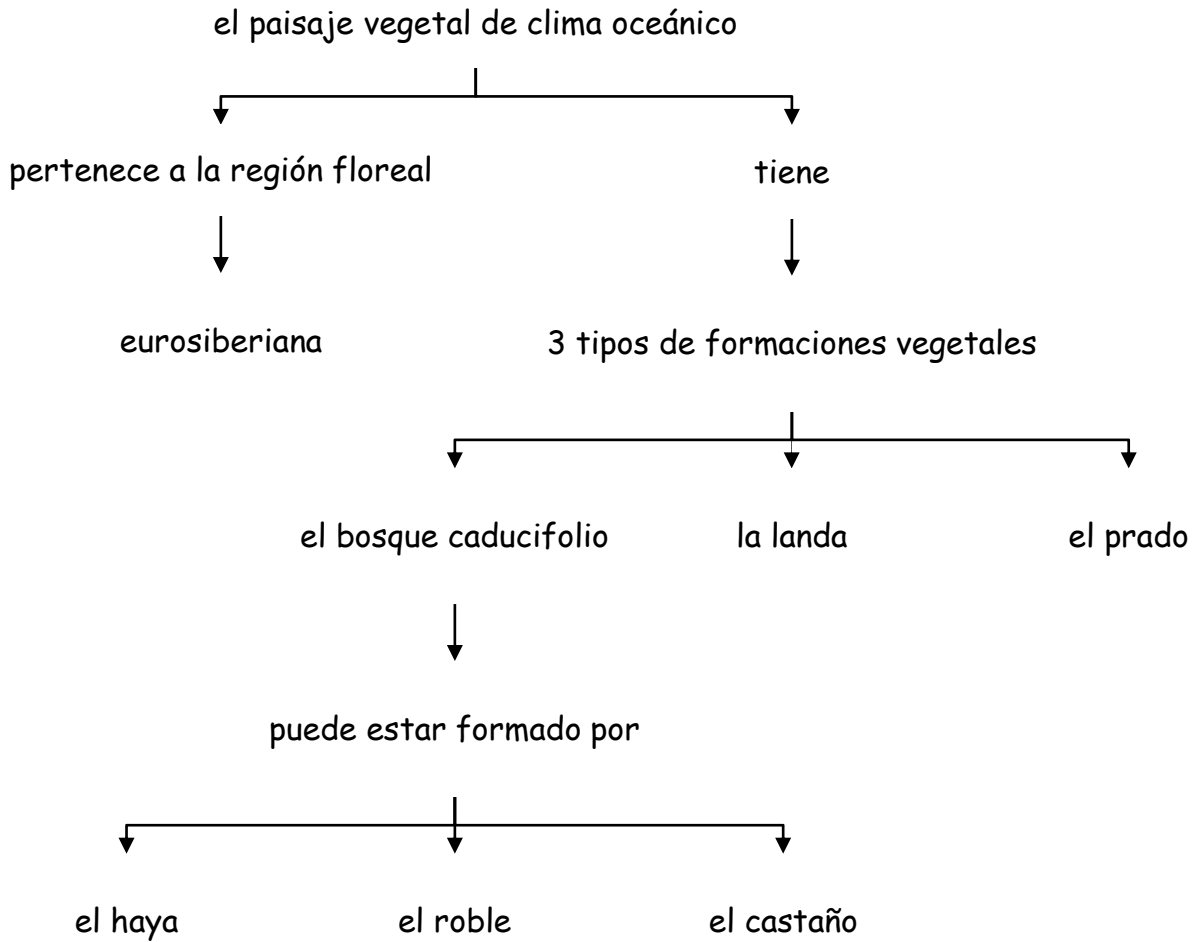
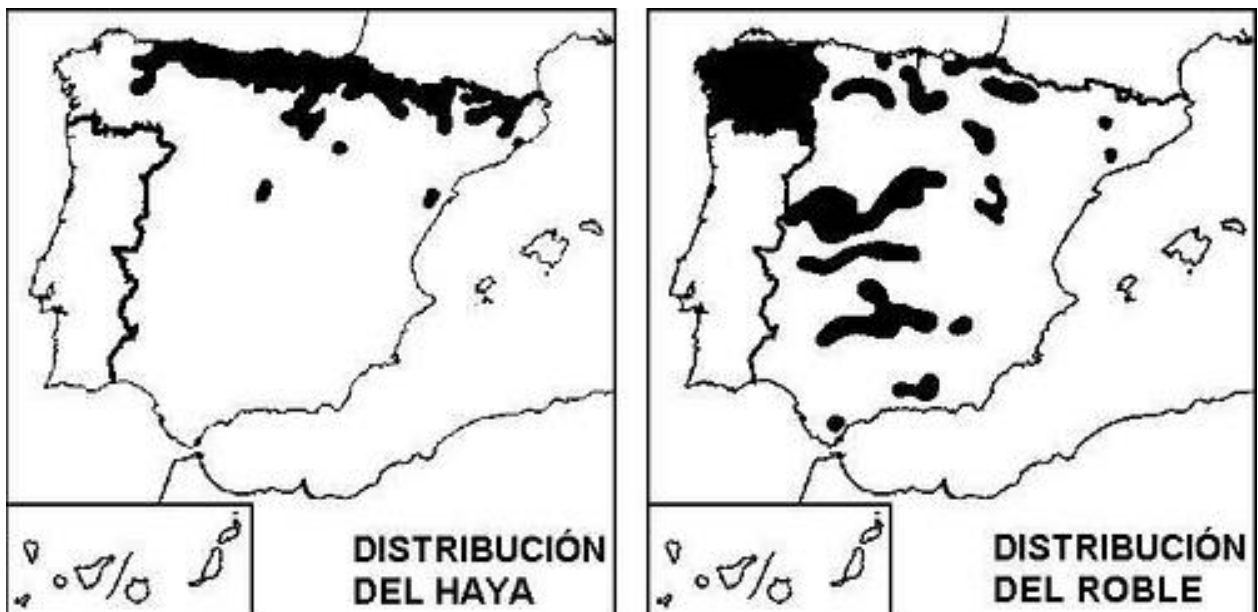


• *El paisaje vegetal de clima oceánico*

- *La región floreal y formaciones vegetales del clima oceánico*



*Mapa de distribución del haya y el roble en la península Ibérica*



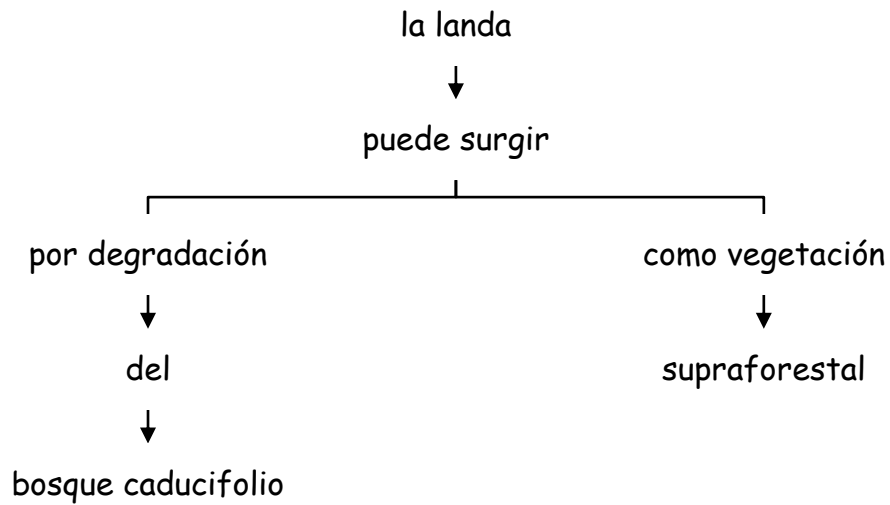
Fuente: <https://www.flickr.com/photos/8449304@N04/4356655711>

## a) El bosque caducifolio: el haya y el roble

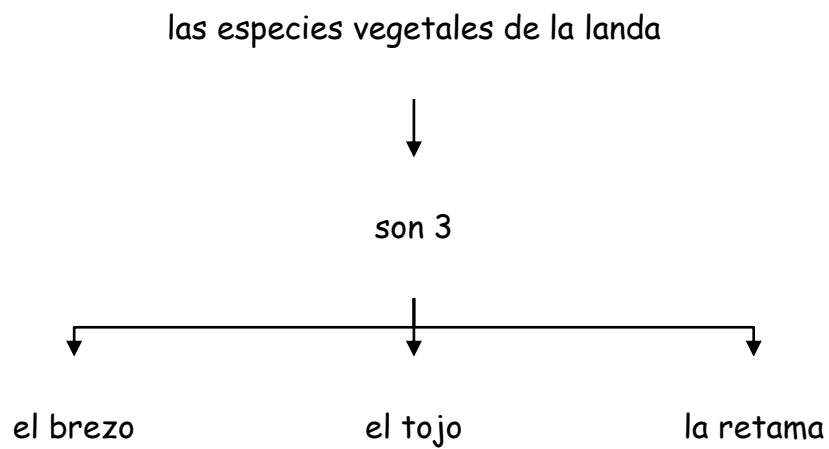
	ADAPTACION AL CLIMA	HABITAT	TIPO DE SUELO	CRECIMIENTO	TIPO DE MADERA	APROVECHAMIENTO DE LA MADERA	LOCALIZACION
HAYA	Mal el calor Bien el frio	Montaña	Calizos Silíceos	Lento	Dura	Muebles Utensilios	C. Cantábrica Pirineo navarro
ROBLE	Mal el calor Regular el frio	Cota baja de la montaña		Lento	Dura	Muebles Barcos Construcción	Galicia C. Cantábrica
Pino	Resiste el frio, calor, humedad y aridez		Diversos	Rápido		Madera Resina	
Eucalipto				Rápido		Celulosa Pasta de papel	

## b) La landa

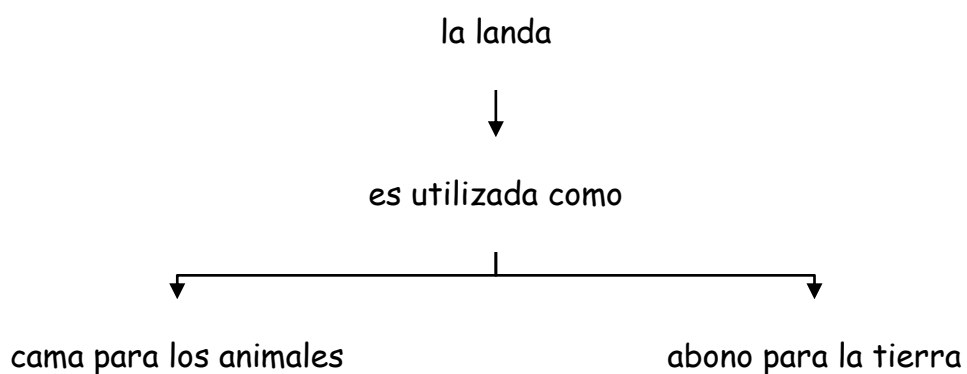
- *Los orígenes de la landa*



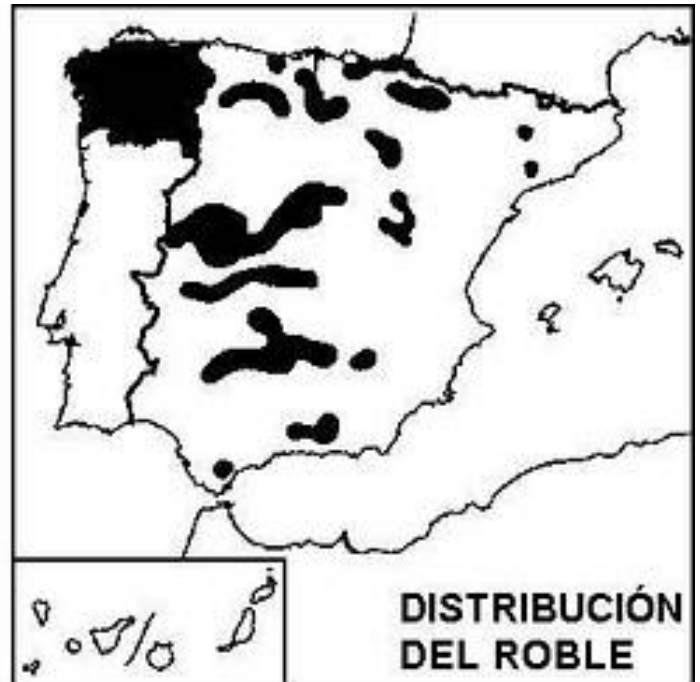
- *Las especies vegetales de la landa*



- *Las utilidades de la landa*



**Ejercicios**



a) Observa los mapas de distribución de la haya y el roble e indica en que unidades de relieve se localizan ambas especies.

	Unidades de relieve
Bosques de hayas	
Bosques de robles	

b) Escribe el nombre de las comunidades autónomas que tienen bosques de hayas y robles

	Comunidades autónomas
Bosques de hayas	
Bosques de robles	