

EL RELIEVE PENINSULAR

- *Las características del relieve peninsular.*

las características del relieve peninsular

→ son 3

→ a) la forma maciza

→ b) la elevada altitud media

→ c) la disposición periférica del relieve montañoso

→ en torno a la Meseta

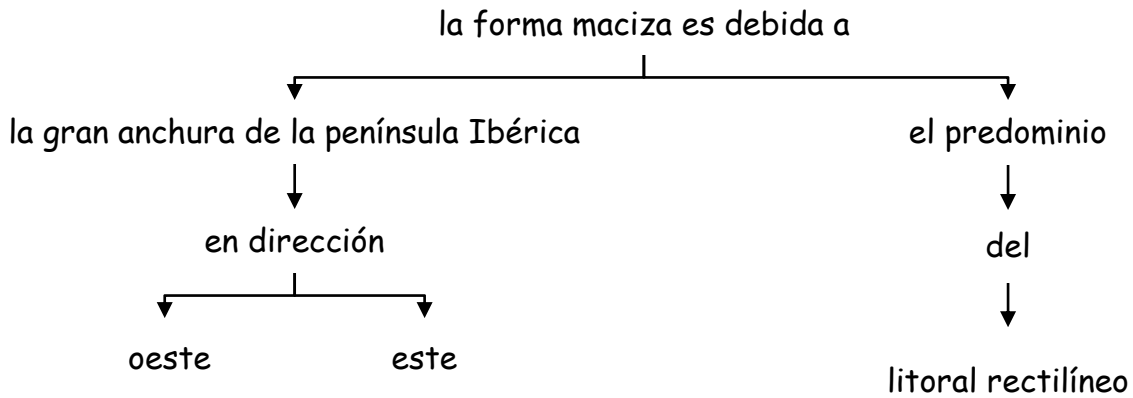
Actividad:

- Interpreta mediante un dibujo el rasgo básico peninsular definido por la disposición periférica del relieve montañoso en torno a la Meseta.



Fuente: <http://www.juntadeandalucia.es/averroes/centros-tic/21000607/helvia/aula/archivos/repositorio/0/81/html/historia/imagenes/peninsula.jpg>

- a) *La forma maciza.*



Actividad:

- Localiza en el mapa los cuatro puntos cardinales y pinta los tramos de las costas atlántica, cantábrica y mediterránea.
- Marca, a tu criterio, los tramos de costas rectilíneas. ¿En qué tramos predominan las costas rectilíneas en la costa atlántica, cantábrica o mediterránea?



Fuente: <http://www.juntadeandalucia.es/averroes/centros-tic/21000607/helvia/aula/archivos/repositorio/0/81/html/historia/imagenes/peninsula.jpg>

- **b) La elevada altitud media.**



(1) La Meseta es una extensa llanura situada en la parte central de la península Ibérica a una altura media sobre el nivel del mar de 650 metros.

Actividad:

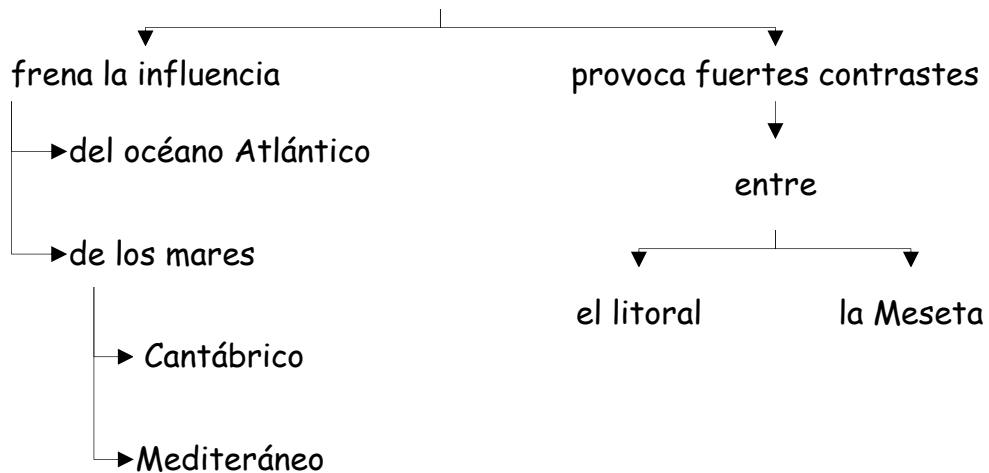
- a. Dibuja en el mapa 3 cordilleras con alturas superiores a los 2000 m.
- b. Dibuja en el mapa el perímetro de la Meseta.



Fuente: <http://www.juntadeandalucia.es/averroes/centros-tic/21000607/helvia/aula/archivos/repositorio/0/81/html/historia/imagenes/peninsula.jpg>

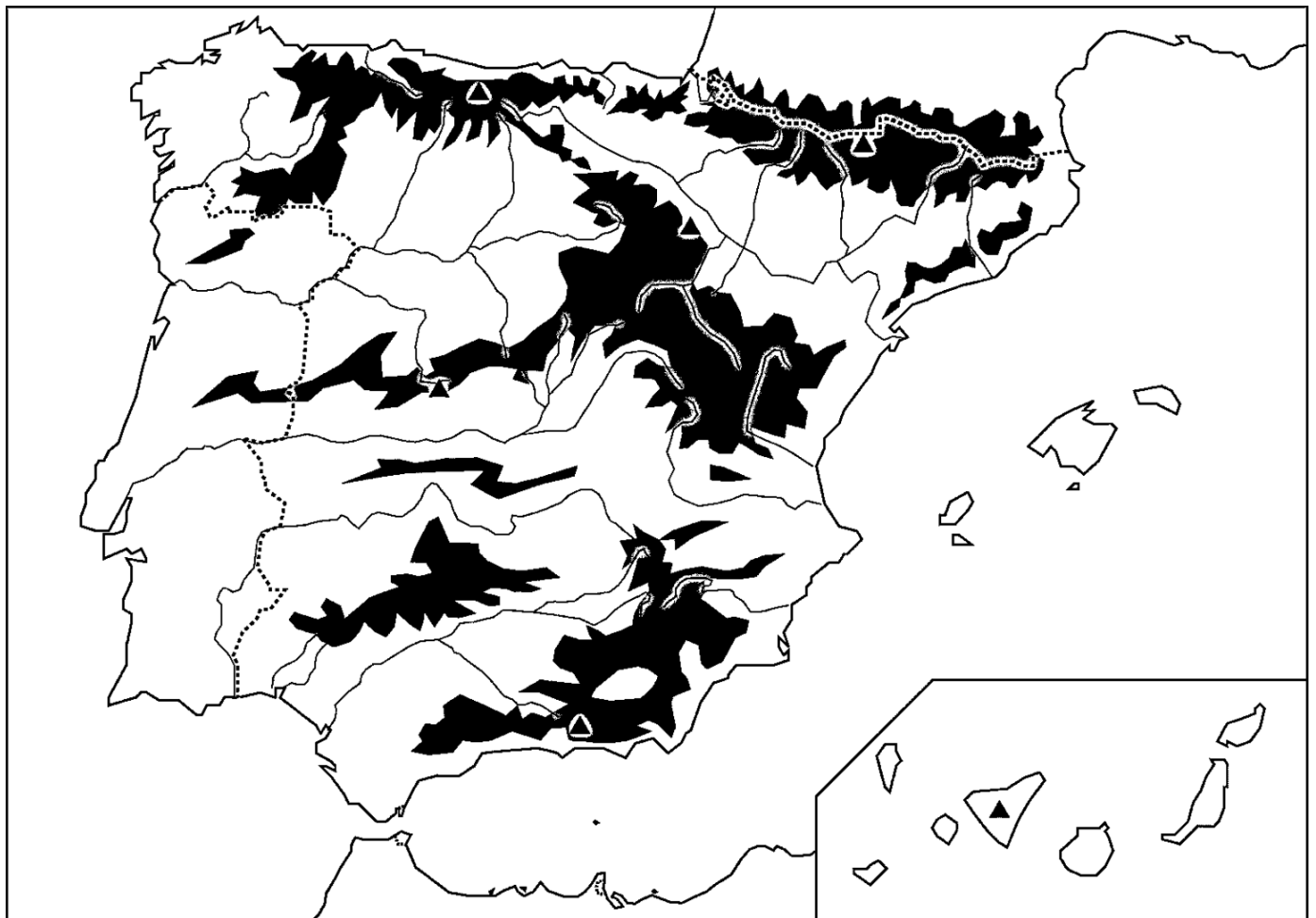
• **c) La disposición periférica del relieve peninsular en torno a la Meseta.**

la disposición periférica del relieve peninsular en torno a la Meseta



Actividad:

- Rodea de color rojo y escribe el nombre de los macizos, cordilleras, montes o sistemas montañosos del mapa que frenan la influencia del mar sobre la Meseta.
- Marca la línea de costa de los litorales atlántico, cantábrico y mediterráneo.
- Colorea el espacio que ocupa la Meseta.
- Localiza en el mapa el océano Atlántico y los mares Cantábrico y Mediterráneo



Fuente: http://3.bp.blogspot.com/-dbFVc10DwYc/UMMwV8pnViI/AAAAAAAAAQE/cvSA9iT0_D4/s1600/Mapa+f%C3%ADsico+mudo.jpg